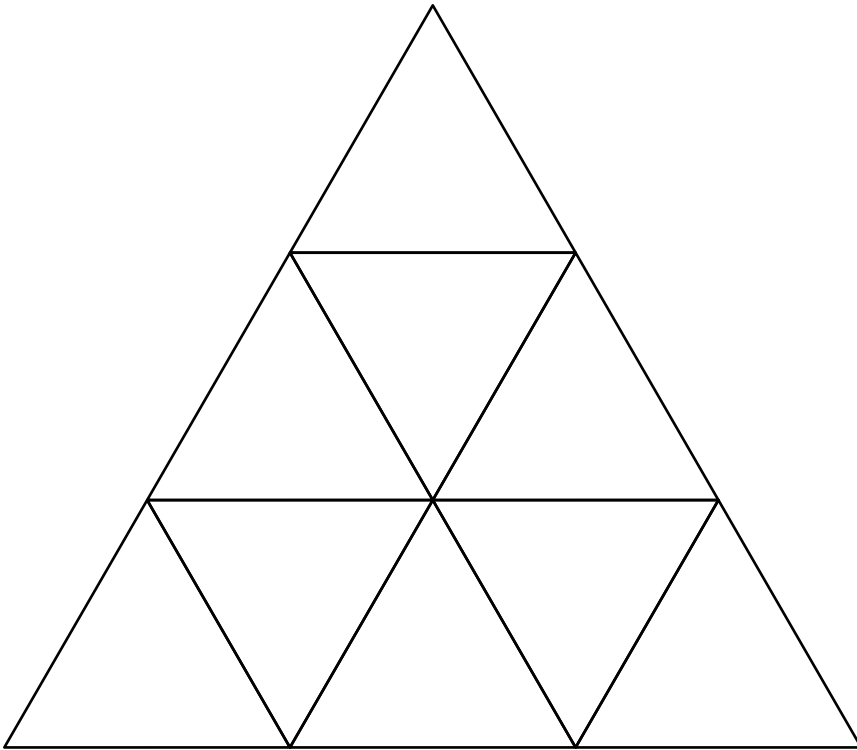


Construye figuras

Adrianne hizo este triángulo gigante a partir de 9 triángulos más pequeños.

¿Qué otras figuras puedes hallar?

Usa los lados de los triángulos.

Dibuja las figuras que encuentres en la **Hoja de respuestas**.

Construye figuras


Dibuja las figuras como las ves en el diseño de Adrienne.

Rombo	Rectángulo	Cuadrado
Triángulo	Trapezio	Hexágono

¿Puedes encontrar todas las figuras? ¿Por qué?

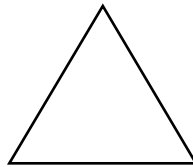
¡Figuras!**Tu reto**

Anota todas tus respuestas en la **Hoja de respuestas**.



Gemma tiene algunos cuadrados como este. Dice que si coloca dos cuadrados juntos (con los lados tocándose por completo) tendrá una figura de 8 lados.

1. ¿Tiene Gemma razón? ¿Por qué?
2. ¿Qué sucede si coloca 3 cuadrados juntos? ¿4 cuadrados juntos? ¿Más cuadrados juntos? ¿Qué observas?



Louis tiene algunos triángulos como este. Dice que si coloca dos triángulos juntos (con los lados tocándose por completo) tendrá una figura de 3 lados.

3. ¿Tiene Louis razón? ¿Por qué?
4. ¿Qué sucede si coloca 3 triángulos juntos? ¿4 triángulos juntos? ¿Más triángulos juntos? ¿Qué observas?

¡Figuras!

1.

2.

3.

4.

