

Ayuda a Hank

Tu reto

Hank está haciendo una tabla de 120. Ya ha colocado 2 números. Hank ahora quiere colocar los siguientes 10 números.

116 73 91 112 79 84 87 104 99 110

Escribe los 10 números en la tabla de 120 de Hank para mostrar dónde debe colocarlos.

							88		
				105					

¿Qué estrategia usaste para decidir dónde colocar el 99?
¿Y el 73?



Ayuda a Hank

Hank encontró estas partes de la tabla de 120, con solo algunos números. Completa cada una de las partes de la tabla. Piensa en los patrones que puedes usar.

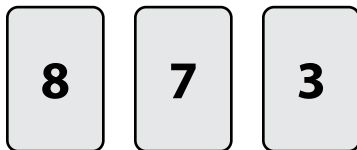
A crossword puzzle grid with 10 numbered squares. The numbers are: 12 (vertical), 43 (vertical), 67 (horizontal), 99 (horizontal), 74 (horizontal). The grid is composed of white squares with black borders.

Compara cartas**Tu reto**


Ellen y Joe están jugando a las cartas. Cada uno debe sumar los números en su cartas. El jugador con el total mayor gana.

1. Suma los números en las tarjetas.
2. Escribe cada total.
3. Escribe $<$, $>$ o $=$ en el círculo para comparar los totales.

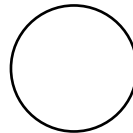
Ellen



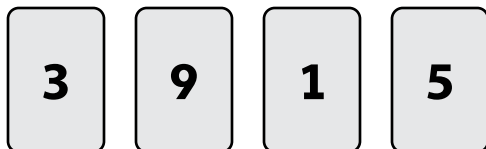
Joe



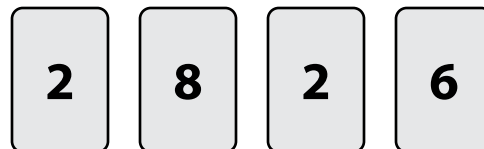
Totales: _____



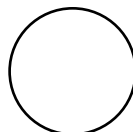
Ellen



Joe

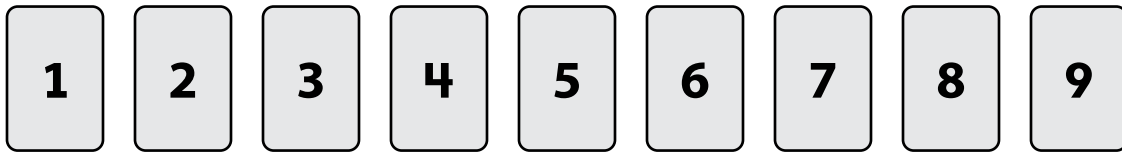


Totales: _____





Compara cartas



Completa las cartas en blanco y completa la comparación.

<p>Ellen</p> <div style="display: flex; justify-content: space-around;"> <div style="border: 1px solid black; padding: 5px; width: 40px; text-align: center;">3</div> <div style="border: 1px solid black; padding: 5px; width: 40px; text-align: center;">6</div> <div style="border: 1px solid black; padding: 5px; width: 40px; text-align: center;">1</div> <div style="border: 1px solid black; padding: 5px; width: 40px; text-align: center;">4</div> </div> <p>Totales: _____</p>	<div style="border: 1px solid black; border-radius: 50%; width: 40px; height: 40px; display: flex; align-items: center; justify-content: center;"> > </div>	<p>Joe</p> <div style="display: flex; justify-content: space-around;"> <div style="border: 1px solid black; width: 40px; height: 40px;"></div> <div style="border: 1px solid black; width: 40px; height: 40px;"></div> <div style="border: 1px solid black; width: 40px; height: 40px;"></div> <div style="border: 1px solid black; width: 40px; height: 40px;"></div> </div> <p>_____</p>
---	---	--

Haz que Ellen gane por 1.

<p>Ellen</p> <div style="display: flex; justify-content: space-around;"> <div style="border: 1px solid black; width: 40px; height: 40px;"></div> <div style="border: 1px solid black; width: 40px; height: 40px;"></div> <div style="border: 1px solid black; width: 40px; height: 40px;"></div> <div style="border: 1px solid black; width: 40px; height: 40px;"></div> </div> <p>Totales: _____</p>	<div style="border: 1px solid black; border-radius: 50%; width: 40px; height: 40px; display: flex; align-items: center; justify-content: center;"> = </div>	<p>Joe</p> <div style="display: flex; justify-content: space-around;"> <div style="border: 1px solid black; width: 40px; height: 40px;"></div> <div style="border: 1px solid black; width: 40px; height: 40px;"></div> <div style="border: 1px solid black; width: 40px; height: 40px;"></div> <div style="border: 1px solid black; width: 40px; height: 40px;"></div> </div> <p>_____</p>
---	--	--

Haz que Joe gane por 1.

<p>Ellen</p> <div style="display: flex; justify-content: space-around;"> <div style="border: 1px solid black; width: 40px; height: 40px;"></div> <div style="border: 1px solid black; width: 40px; height: 40px;"></div> <div style="border: 1px solid black; width: 40px; height: 40px;"></div> <div style="border: 1px solid black; width: 40px; height: 40px;"></div> </div> <p>Totales: _____</p>	<div style="border: 1px solid black; border-radius: 50%; width: 40px; height: 40px; display: flex; align-items: center; justify-content: center;"> < </div>	<p>Joe</p> <div style="display: flex; justify-content: space-around;"> <div style="border: 1px solid black; width: 40px; height: 40px;"></div> <div style="border: 1px solid black; width: 40px; height: 40px;"></div> <div style="border: 1px solid black; width: 40px; height: 40px;"></div> <div style="border: 1px solid black; width: 40px; height: 40px;"></div> </div> <p>_____</p>
---	---	--

